



Élève : Date :

Niveau 1

Le cycle de vie de l’arbre

1. Écris le nom de la saison qui correspond à chaque image :
Hiver – Printemps – Automne – Été.



.....



.....




.....




.....


2. Numérote les étapes de la croissance d’un arbre fruitier.




○




○



○



○



○



○

J’ai appris que :

Un arbre a un cycle de vie : il naît, grandit et meurt.

Un arbre se développe tout au long de sa vie : son tronc s’épaissit et sa taille augmente.

Les arbres fruitiers produisent des fruits.